

ちよちよと花の数で なはな のかず が何組かわかるよ。
なにぐみ





 なんぐみ
は何組かな？





1くみ










2くみ




④  ら   う 

①  わ   れ 

⑤  る   る 

②  お   か 


⑥  な   わ 

③  さ   ち 


問題 もんだい

先生の言った文字の方に○をつけましょう。
せんせい いって もじ ほうに まるをつけましよう。


ちよちよと花の数で
なな いくばく
が何組かわかるよ。
なんいくばく






①



②



③



④



⑤




⑥



なんくみ
は何組かな？

1くみ



2くみ

