

問題 もんだい
先生の言った文字の方に○をつけましょう。
せんせい い もじ ほう

ちょうちよと花の数で はな かず
が何組かわかるよ。
なんぐみ

さ はち



①

け はな

ゆ はち



④

う はな

む はち



②

ぬ はな

か はち



⑤

や はな

ん はち



③

う はな

い はち




⑥

え はな


なんぐみ
は何組かな？



1くみ



2くみ



問題 もんだい
先生の言った文字の方に○をつけましょう。
せんせい い もじ ほう

ちょうちよと花の数で はな かず
が何組かわかるよ。
なんぐみ

さ はち

①



け はな

④



ゆ はち

う はな

む はち

②



ぬ はな

⑤



か はち

や はな

ん はち

③



う はな

⑥




い はち

え はな

なんぐみ
は何組かな?



1くみ



2くみ

