





問題 もんだい  
先生の言った文字の方に○をつけましょう。  
せんせい い もじ ほう

ちょうちよと花の数で はな かず  
が何組かわかるよ。  
なんぐみ

  
なんぐみ  
は何組かな？




1くみ




④   

①   

⑤   

②   

2くみ



⑥   

③   


問題 もんだい  
先生の言った文字の方に○をつけましょう。  
せんせい い もじ ほう


ちょうちよと花の数で はな かず  
が何組かわかるよ。  
なんぐみ

ま 




①


ほ 

い 



④

と 

く 




②

つ 

も 



⑤

せ 

ふ 




③

う 

き 




⑥

さ 

 なんぐみ  
は何組かな？

1くみ



2くみ

